


# Oddział Międzyuczelniany PTTK w Warszawie

Egzamin na Organizatora Turystyki OM PTTK – 21.02.2013 r.



Egzamin składa się z „wejściówki” (4 pyt.) oraz 43 pytań pogrupowanych w 10 działów. Punktacja dla poszczególnych pytań została przedstawiona obok.

Zaliczenie egzaminu polega na uzyskaniu:

- z „wejściówki” co najmniej 81 punktów – w przypadku uzyskania mniejszej liczby punktów praca nie będzie dalej sprawdzana,
- z działów, po co najmniej po 61 punktów.

Warunkiem dopuszczenia do ustnego egzaminu poprawkowego jest zdobycie po 61 punktów z przynajmniej 7 działów.

*Życzymy powodzenia, Komisja ds. OT*

Wejściówka		
1		32
2		20
3		24
4		24
razem		100

Budownictwo drewniane		
5		40
6		20
7		20
8		20
razem		100

Etnografia		
9		20
10		39
11		25
12		16
razem		100

Architektura		
13		24
14		15
15		21
16		40
razem		100

PTTK jako organizacja		
17		40
18		24
19		36
razem		100

Historia turystyki		
20		15
21		10
22		20
23		35
24		20
razem		100

Pierwsza pomoc		
25		24
26		12
27		40
28		24
razem		100

Geografia turystyczna polski		
29		20
30		50
31		30
razem		100

Terenoznawstwo		
32		22
33		38
34		12
35		12
36		16
razem		100

Przyroda i jej ochrona		
37		30
38		10
39		60
razem		100

Zagadnienia prawne w turystyce		
40		28
41		24
42		24
43		24
razem		100

**„Wejściówka”****Pytanie 1 [32 pkt.] test wielokrotnego wyboru**

- 1) Organizatorem Turystyki OM PTTK w Warszawie może zostać kandydat, który:
- jest członkiem OM PTTK w Warszawie,
  - ma ukończone 18 lat,
  - jest członkiem PTTK min. 2 lata,
  - zdał egzamin OT w OM PTTK.
- 2) Organizator Turystyki OM PTTK traci uprawnienia:
- w momencie ustania członkostwa w OM PTTK w Warszawie,
  - po udzieleniu nagany przez Oddziałowy Sąd Koleżeński lub Główny Sąd Koleżeński,
  - w przypadku podejrzenia przestępstwa,
  - po wygaśnięciu umowy o wolontariacie.
- 3) Organizator Turystyki OM PTTK w Warszawie ma prawo do:
- organizowania wycieczek i imprez turystycznych w ramach działalności statutowej OM PTTK w Warszawie,
  - potwierdzania przebycia tras i spełniania wymagań do uzyskania odznak turystycznych PTTK na wycieczkach i imprezach, w których osobiście uczestniczy, zgodnie z regulaminami tych odznak,
  - noszenia odznaki i posługiwania się legitymacją Organizatora Turystyki PTTK,
  - odpłatnego oprowadzania wycieczek po Warszawie bez konieczności zdobycia innych uprawnień.
- 4) Organizator Turystyki OM PTTK ma obowiązek wspierania realizacji celów statutowych OM PTTK w Warszawie przez swoją działalność organizacyjno-popularyzatorską, a w szczególności poprzez:
- zdobywanie oraz propagowanie zdobywania odznak turystyki kwalifikowanej i krajoznawczych,
  - propagowanie zasad ujętych w "Karcie Turysty",
  - przestrzeganie i upowszechnianie zasad bezpieczeństwa w turystyce,
  - podnoszenie swoich kwalifikacji turystycznych.

**Pytanie 2 [20 pkt.]**

Podaj numery alarmowe:

Policji:	Pogotowia ratunkowego:
Straży Pożarnej:	Ogólny numer ratunkowy z tel. komórkowych:

**Pytanie 3 [24 pkt.]**

Podaj daty powstania następujących organizacji:

(G)TT: _____	PTTK: _____	PTK: _____
--------------	-------------	------------

**Pytanie 4 [24 pkt.]**

Podaj pełne nazwy jednego parku narodowego, parku krajobrazowego i rezerwatu przyrody w województwie mazowieckim.


## Budownictwo drewniane

### Pytanie 5 [40 pkt.]

fot. wikipedia.pl



Opisz, w co najwyżej 50 słowach obiekt przedstawiony na rysunku uwzględniając jego konstrukcję.

**Pytanie 6 [20 pkt.]**

a) Jaka konstrukcja dachu jest widoczna na poniższym schemacie? (4 pkt.)

.....


b) Zaznacz na rysunku (odpowiednim numerem) poniższe elementy konstrukcji dachu (16 pkt.):

1. jętka

2. tram

3. sosręb

4. płatew

**Pytanie 7 [20 pkt.]**

Z poniższej listy wybierz 5 pojęć i wyjaśnij krótko ich znaczenie.

***belka tęczowa, gont, soboty, śparogi, zrąb, szalunek, łatka***


**Pytanie 8 [20 pkt.]**

Które z poniższych obiektów architektury drewnianej znajdują się na liście dziedzictwa światowego UNESCO? (Wpisz TAK lub NIE)

1. Kościół Wang w Karpaczu	
2. Kościół pw. Św. Leonarda w Lipnicy Murowanej	
3. Kościół Pokoju w Jaworze	
4. Cerkiew pw. Św. Paraskewy w Kwiatoniu	
5. Pałac Myśliwski książąt Radziwiłłów w Antoninie	

**Etnografia****Pytanie 9 [20 pkt.]**

Z jaką (co najmniej jedną) religią kojarzy Ci się każde z pojęć?

Bohoniki	
Carskie wrota	
Chaczkar	
Jasna Góra	
Macewa	
Pastor	
Ramadan	
Święta Góra Grabarka	
Tora	
Zbór	

**Pytanie 10 [39 pkt.]**

Dopasuj zawód do wytwarzanego towaru/ wykonywanej usługi wpisując odpowiednią literę.

	<b>Osoba</b>	<b>Zajmuje się?</b>
A	cyrulik	biciem monet
B	ludwisarz	budową i naprawą pieców
C	maziarz	goleniem, kąpaniem, rwaniem zębów, czyszczeniem uszu, upuszczaniem krwi
D	mincerz	naprawą pończoch
E	płatnerz	odlewaniem z brązu, miedzi, mosiądzu lub spiżu
F	powroźnik	produkcją smaru
G	repasarka	rzeźbieniem w drewnie
H	rymarz	przygotowaniem składu ręcznego lub maszynowego do druku
I	sitarz	wykonywaniem zbroi
J	smolarz	wypalaniem węgla drzewnego

K	snycerz	wyplataniem lin
L	zdun	wytwarzaniem siodeł i uprzęży
M	zecer	wytwarzaniem sit

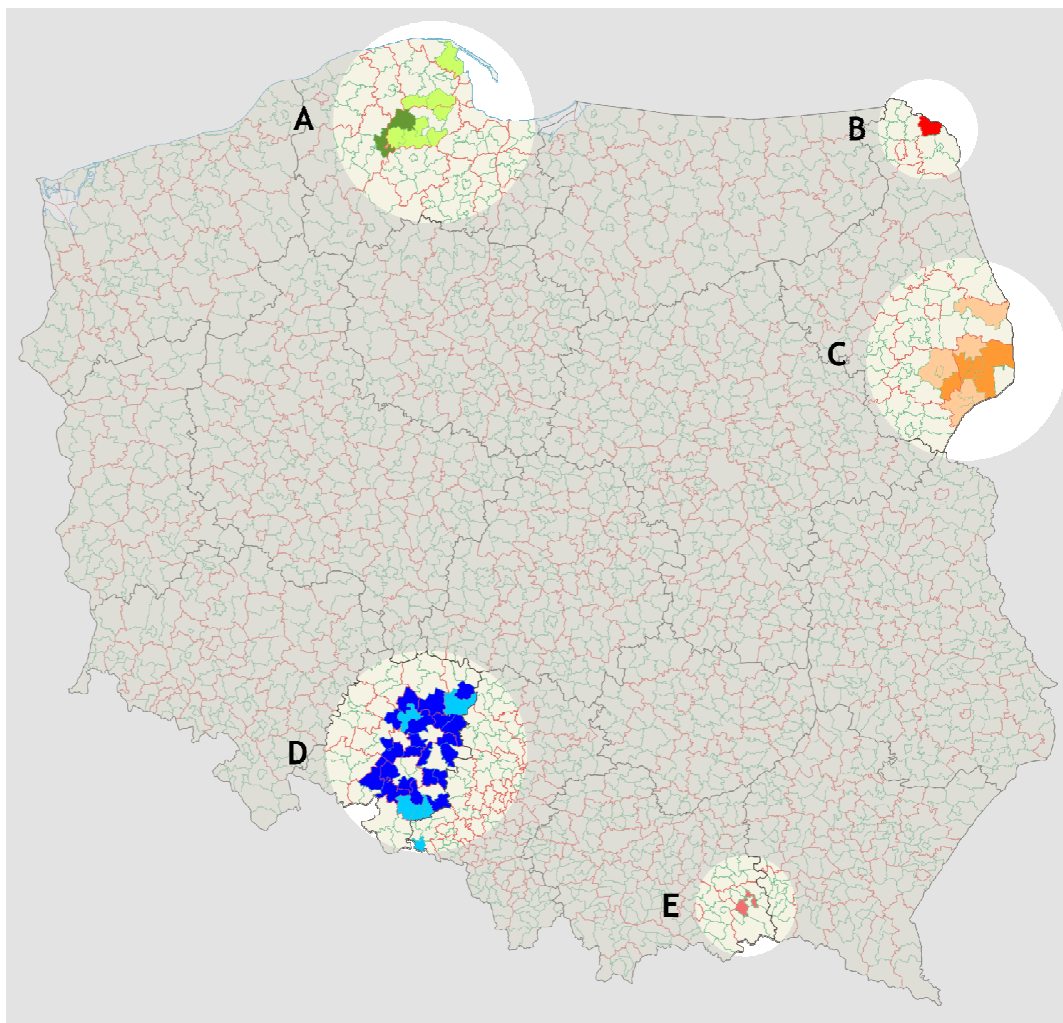
### Pytanie 11 [25 pkt.]

#### Języki mniejszości w Polsce

Na mapie zaznaczono gminy, w których są dopuszczalne języki pomocnicze i dwujęzyczne nazwy miejscowości (stan na 28 maja 2010 r.).

Napisz, jakim językiem pomocniczym posługują się mieszkańcy zaznaczonych obszarów.

A	
B	
C	
D	
E	



### Pytanie 12 [16 pkt.]

1. Jaka jest ustawowa różnica pomiędzy mniejszością narodową a etniczną? [8 pkt.]



2. Wymień wszystkie ustawowe mniejszości etniczne. [8 pkt.]

## Architektura

### Pytanie 13 [24 pkt.]

Określ style zabytkowych budowli widocznych na zdjęciach i orientacyjne ramy czasowe, w jakich te budowle mogły powstać.

Wymień cechy architektury charakterystyczne dla tego stylu (niekoniecznie widoczne na zdjęciu). Podaj po jednym przykładzie szczególnie cennych budowli w danym stylu znajdujących się w Polsce (nie podawaj tych, które widzisz na poniższych zdjęciach).

			
Styl [2 pkt.]		Styl [2 pkt.]	
Przybliżony czas powstania [2 pkt.]		Przybliżony czas powstania [2 pkt.]	
Cechy charakterystyczne stylu (6 elementów) [6 pkt.]	1) ..... 2) ..... 3) ..... 4) ..... 5) ..... 6) .....	Cechy charakterystyczne stylu (6 elementów) [6 pkt.]	1) ..... 2) ..... 3) ..... 4) ..... 5) ..... 6) .....
Przykład [2 pkt.]		Przykład [2 pkt.]	

## Pytanie 14 [15 pkt.]



Widoczna na zdjęciu budowla posiada charakterystyczne podzielone kolumnią okno.

Jaką nosi ono nazwę [8 pkt.]?

.....

Wskaż dla którego z poniższych stylów charakterystyczną cechą jest występowanie takich okien (romanizm, renesans, barok, klasycyzm, secesja) [7 pkt.]?

.....

## Pytanie 15 [21 pkt.] test jednokrotnego wyboru

1. Unikalny zespół architektoniczno-urbanistycznego Starego Miasta w Zamościu, dzięki któremu miasto to znalazło się na Liście światowego Dziedzictwa UNESCO, reprezentuje styl:
  - a. barokowy
  - b. gotycki
  - c. neoklasycystyczny
  - d. renesansowy
  - e. romański
2. Drewniany ganek w średniowiecznym budownictwie obronnym, znajdujący się w górnej części murów obronnych, zaopatrzone w otwory strzelnicze i dający osłonę obrońcom to:
  - a. sygnaturka
  - b. sobota
  - c. hurdyca
  - d. attyka
  - e. gzyms
3. Element fortyfikacji ziemno-murowanych w formie pięciokąta na załamaniach obwałowania (narożu) twierdzy to:
  - a. bastion
  - b. wieża
  - c. barbakan
  - d. gdanisko
  - e. machikula
4. Elewacja budynku, w której przeważnie znajduje się główne wejście, odróżniająca się od pozostałych bogatszą kompozycją architektoniczną i dekoracyjną to:
  - a. kapitel
  - b. poddasze
  - c. tympanon
  - d. fasada
  - e. blenda
5. Transept jako pojęcie architektoniczne oznacza:
  - a. nawę poprzeczną, prostopadłą do osi kościoła
  - b. nawę główną kościoła
  - c. jedną z bocznych naw kościoła, w której znajdują się kaplice
  - d. nadwieszoną kondygnację w drewnianych dzwonnicach, mieszczącą pomieszczenie na dzwony
  - e. główną bibliotekę klasztorze lub opactwie



6. Bazy nie posiada kolumna w porządku architektonicznym:
- doryckim
  - jońskim
  - korynckim
  - kompozytowym
  - toskańskim
7. Eklektyzm cechuje:
- wykorzystanie bogatej ornamentyki, zwłaszcza roślinno-zwierzęcej
  - łączenie różnych elementów i treści z różnych stylów, epok i kierunków artystycznych
  - przewaga linii poziomych nad pionowymi
  - strzelistość, lekkość, wertykalność
  - wykorzystanie ciosów kamiennych, wcześniej nieobrobionych

**Pytanie 16 [40 pkt.]**

Opisz w 50 słowach budynek przedstawiony na zdjęciu.

**PTTK jako organizacja****Pytanie 57 [40 pkt.] (Zwolnienie dla osób posiadających odznaki TAK / NIE)**

1. Wymień 4 odznaki turystyki kwalifikowanej PTTK, podając ich pełne nazwy [po 5 punktów za każdą odpowiedź]


2. OM PTTK w Warszawie nie jest inicjatorem powstania: [5 punktów/test jednokrotnego wyboru]
- Odznaki Szlakiem Powstania Warszawskiego
  - Odznaki Szlakiem Wielkiej Wojny 1409-14011
  - Odznaki Szlakiem Zabytków Architektury Drewnianej w Warszawie
  - Odznaki Szlakiem Zabytków Światowego Dziedzictwa UNESCO w Polsce
3. Wyjaśnij następujące skróty odznak: [po 5 punktów za poprawną odpowiedź]

OKP	
ROK	
WOK	

**Pytanie 18 [24 pkt.]**

1. Wymień 4 Komisje OM PTTK w Warszawie: [po 3 punkty za poprawną odpowiedź]


2. Wymień 4 koła OM PTTK podając ich numer oraz pełną nazwę: [po 3 punkty za poprawną odpowiedź]


**Pytanie 19 [36 pkt.] test jednokrotnego wyboru**

Zaznacz prawidłową odpowiedź: [po 6 punktów za poprawną odpowiedź]

- Liczba członków PTTK wynosi ok.:
  - 6 tysięcy
  - 60 tysięcy
  - 600 tysięcy
  - 6 milionów
- Członkiem PTTK może być:
  - wyłącznie obywatel polski
  - wyłącznie osoba pełnoletnia
  - osoba niepozbawiona praw publicznych
  - cudzoziemiec, ale tylko jeśli jest zameldowany w Polsce
- Kadencja władz naczelných PTTK trwa:
  - 1 rok
  - 2 lata
  - 3 lata
  - 4 lata
- Status Organizacji Pożytku Publicznego posiada:
  - OM PTTK w Warszawie
  - Każdy Oddział PTTK
  - Całe PTTK
  - Mazowieckie Forum Oddziałów PTTK

5. Najwyższą władzą Oddziału PTTK jest :
- a) Komisja Rewizyjna Oddziału    b) Sąd Koleżeński Oddziału    c) Zarząd Oddziału    d) Zjazd Oddziału
6. Uprawnieniem kadry programowej PTTK nie jest:
- a) Instruktor Ochrony Przyrody    b) Przodownik Turystyki Górskiej    c) Wychowawca Kolonijny    d) Znakarz Szlaków Nizinnych

## Historia Turystyki

### Pytanie 20 [15 pkt.]

Opisz krótko początki organizowanej turystyki w wybranym przez Ciebie zaborze.

--

### Pytanie 21 [10 pkt.]

PTTK powstało z dwóch Towarzystw i jest spadkobiercą tradycji i dorobku ideowego, a także następcą prawnym majątku tych Towarzystw. Wymień pełne nazwy tych organizacji: *[po 5 punktów za poprawną odpowiedź]*

--	--

### Pytanie 22 [20 pkt.] test jednokrotnego wyboru

Zaznacz prawidłową odpowiedź. *[po 5 punktów za poprawną odpowiedź]*

1. TT powstało:
  - a. w zaborze austriackim
  - b. w zaborze pruskim
  - c. w zaborze rosyjskim
  - d. w wolnym mieście Gdańsk
2. Główny Szlak Sudecki został wyznakowany:
  - a. w okresie zaborów
  - b. w okresie 20-lecia międzywojennego
  - c. po II wojnie światowej
  - d. po 1989 roku
3. Pierwsze schronisko TT w Beskidach Zachodnich powstało:
  - a. na Hali Miziowej
  - b. na Markowych Szczawinach
  - c. pod Morskim Okiem
  - d. na Zaroślaku
4. Tzw. wojna na pędzle to spór dotyczący znakowania szlaków pomiędzy Beskidenverein a:
  - a. AKT
  - b. PTK
  - c. PTT
  - d. TOPR

### Pytanie 23 [35 pkt.] test jednokrotnego wyboru

Zaznacz prawidłową odpowiedź: *[po 5 punktów za poprawną odpowiedź]*

1. Inicjatorem utworzenia AKT Lwów był:
  - a. Walery Goetel
  - b. Mieczysława Karłowicz
  - c. Mieczysław Orłowicz
  - d. Władysław Midowicz
2. Inicjatorem powstania PTK był:
  - a. Aleksander Janowski
  - b. Władysław Krygowski
  - c. Wincenty Pol
  - d. Stanisław Staszic
3. Twórcą muzeum w Puławach – pierwszego muzeum na ziemiach polskich był/a:
  - a. Izabela Czartoryska
  - b. Beata Łaska
  - c. Julian Ursyn Niemcewicz
  - d. Stanisław Staszic

4. Inicjatorem utworzenia Biblioteki PTK był:

- a. Walery Eliaż-Radzikowski      b. Kazimierz Kulwieć      c. Władysław Krygowski      d. Edward Moskała

5. Inicjatorem utworzenia Głównego Szlaku Beskidzkiego oraz Szlaku Orlich Gniazd był:

- a. Władysław Krygowski      b. Edward Moskała      c. Mieczysław Orłowicz      d. Kazimierz Sosnowski

6. Propagatorem Zakopanego oraz Tatr, który przyczynił się do założenia TT był:

- a. Tytus Chałubiński      b. Kazimierz Kulwieć      c. Edward Moskała      d. Jan Gwalbert Pawlikowski

7. Inicjatorem utworzenia TOPR był:

- a. Władysław Krygowski      b. Leopold Świerż      c. Mariusz Zaruski      d. Ludwik Zejszner

### Pytanie 24 [20 pkt.] test jednokrotnego wyboru

Zaznacz prawidłową odpowiedź: [po 5 punktów za poprawną odpowiedź]

1. GOPR powstał w roku:

- a. 1893      b. 1909      c. 1952      d. 1960

2. Oddział Międzyuczelniany PTTK w Warszawie powstał w roku:

- a. 1923      b. 1954      c. 1960      d. 1990

3. GOT utworzono:

- a. 1935      b. 1952      c. 1960      d. 1974

4. Schronisko TT nad Morskim Okiem powstało w roku:

- a. 1874      b. 1889      c. 1906      d. 1935

## Pierwsza pomoc

### Pytanie 25 [24 pkt.]

Pod jakimi numerami telefonów alarmowych (innymi niż w zadaniu poniżej) będziesz wzywał/a pomocy w górach. Wymień dwa i napisz, do kogo są. [24 pkt.]


### Pytanie 6 [12 pkt.]

Wymień jeden znany Ci sposób wzywania pomocy w górach i opisz krótko na czym polega:

--

### Pytanie 7 [40 pkt.]

a) Prowadzisz 10-osobową grupę, idziecie latem przez kwitnące łąki. U pięciorga uczestników występuje silne zaczerwienienie oczu, łzawienie, kichanie i katar. Co robisz? Zaproponuj trzy czynności. [27 pkt.]


b) Jeden z uczestników organizowanej przez Ciebie wycieczki skarży się na ból kolan. Po sprawdzeniu zawartości jego plecaka, okazuje się, że zabrał on ze sobą za dużo sprzętu. Opisz, jakie kroki poczynisz, żeby mu ulżyć. [13 pkt.]

### Pytanie 8 [24 pkt.] *test wielokrotnego wyboru*

1. Uczestnikowi wyjazdu zaczyna lecieć obficie krew z nosa, co robisz:
  - a) pochylasz głowę do przodu
  - b) odchylasz głowę do tyłu
  - c) robisz zimny okład na kark
  - d) zaciskasz skrzydełka nosa chusteczką, aby zatamować krwawienie
2. Podczas prowadzenia grupy, na szlaku w gęstym lesie (brak zasięgu) widzisz jak człowiek traci przytomność i osuwa się na ziemię, co robisz:
  - a) Podajesz leki z apteczki
  - b) Starasz się go ocucić klepnięciami w policzki
  - c) Wysyłasz szybką grupę, żeby wezwała pomoc
  - d) Kontynuujesz prowadzenie grupy

## Geografia Turystyczna Polski

### Pytanie 29 [20 pkt.]

Scharakteryzuj wybrany z poniższej listy region turystyczny uwzględniając atrakcje turystyczne, zagospodarowanie turystyczne, zabytki, ciekawostki przyrodnicze i kulturalne.

**Bieszczady, Jura Krakowsko-Częstochowska, Nizina Śląska, Pojezierze Pomorskie, Podlasie**

### Pytanie 30 [50 pkt.]

1. Podaj stolice następujących województw [10 pkt.]

1	Dolnośląskie	
2	Kujawsko-Pomorskie	
3	Lubuskie	
4	Podlaskie	
5	Podkarpackie	

2. Wymień 5 miejsc z województwa małopolskiego wpisanych na listę światowego dziedzictwa UNESCO [20 pkt.]

1	
2	
3	
4	
5	

3. Przyporządkuj podanym miejscowościom znajdujące się tam charakterystyczne obiekty [20 pkt.]

1	Bełchatów	
2	Biskupin	
3	Chabówka	
4	Chorzów	
5	Duszniki Zdrój	
6	Gdańsk	
7	Kruszyniany	
8	Sulejówek	
9	Treblinka	
10	Wrocław	

A	Dom J. Piłsudskiego
B	Drewniany meczet
C	Hala Ludowa (Stulecia)
D	Kopalnia węgla brunatnego
E	Muzeum papiernictwa
F	Obóz zagłady Żydów
G	Osada kultury łużyckiej
H	Park Kultury i Wypoczynku
I	Skansen Tabotu Kolejowego
J	Twierdza Wisłoujście

## Pytanie 31 [30 pkt.]



Zaznacz na podanej mapie Polski położenie **piętnastu** wybranych z poniższej listy miejsc:

1	Białowieża	11	Olsztyn
2	Bogatynia	12	Opole
3	Częstochowa	13	Opołonek
4	Elbląg	14	Płock
5	Gniezno	15	Poznań
6	Gorzów Wielkopolski	16	Przemyśl
7	Jelenia Góra	17	Rozewie
8	Lublin	18	Sandomierz
9	Łódź	19	Szczecin
10	Nowy Sącz	20	Toruń

## Terenoznawstwo

### Pytanie 32 [22 pkt.]

1. Korzystając z załączonej mapy odpowiedz na poniższe pytania:

Podaj 4 możliwości noclegu na obszarze objętym mapą. [12 pkt.]	
Jaką wartość ma azymut wyznaczony ze schroniska nad Wierchomlą na szczyt Szczoby niedaleko Szczawnika? [6 pkt.]	
Na jakiej wysokości n.p.m. znajduje się Źródło Iwona niedaleko Jastrzębika? [4 pkt.]	

### Pytanie 33 [38 pkt.]

1. Planujesz całodzienną wycieczkę ze znajomymi na trasie Krynica-Zdrój (PKP)-Żegiestów-Zdrój niebieskim szlakiem. Podaj długość trasy w kilometrach oraz sumę przewyższeń w metrach [10 pkt.]

2. Narysuj schematyczny profil wysokościowy wycieczki zaplanowanej w zad. 1.: [10 pkt.]

3. Następnego dnia jedziecie do Piwnicznej-Zdroju w celu zwiedzenia miejscowości. Podaj atrakcje krajoznawcze miasteczka na podstawie mapy. [18 pkt.]

### Pytanie 34 [12 pkt.]

Odpowiedz na pytania:

1) Co to jest deklinacja magnetyczna?

2) Co to jest azymut?



**Pytanie 35 [12 pkt.]**

Do podanych poniżej słownie nazw kierunków podaj odpowiednie azymuty:

- A. północny-wschód - .....
- B. południowy wschód - .....
- C. zachód - .....
- D. północny-zachód - .....

**Pytanie 36 [16 pkt.]**

Wypełnij poniższą tabelę:

	Skala mapy	Odległość na mapie	Odległość w terenie
A.	1:10 000	.....	450 m
B.	.....	8,4 dm	2,1 km
C.	.....	3,7 cm	925 m
D.	1:15 000	29 mm	.....

**Przyroda i jej ochrona****Pytanie 9 [30 pkt.]**

Wymień 5 (z siedmiu) Parków Narodowych znajdujących się w polskich górach [15pkt.] i opisz piętra roślinności w jednym z nich [15pkt.]

1	
2	
3	
4	
5	
Opis:	

**Pytanie 38 [10 pkt.] test jednokrotnego wyboru**

- 1) Jaki dokument jest podstawą realizacji ochrony przyrody w Polsce?
  - a) Ustawa o ochronie przyrody
  - b) Rozporządzenie Ministra Środowiska
  - c) Statut Ligi Ochrony Przyrody
  - d) Zarządzenie regionalnego Konserwatora Przyrody
- 2) Jaką formą ochrony objęta jest dolina rzeki Rospudy?
  - a) Natura 2000
  - b) Rezerwat Przyrody
  - c) Użytek ekologiczny
  - d) Torfowisko wysokie

**Pytanie 39 [60 pkt.]**

- 1) Wymień 5 zwierząt objętych ochroną ścisłą [20 pkt.]

- 2) Wymień 5 gatunków drzew występujących w polskich lasach [20 pkt.]

- 3) Wymień 5 roślin objętych ochroną ścisłą [20 pkt.]

**Zagadnienia prawne w turystyce****Pytanie 40 [28 pkt.] test wielokrotnego wyboru**

Zaznacz prawidłowe odpowiedzi.

1. OM PTTK w Warszawie jest: [7 pkt.]

- |   |                              |                                    |                    |
|---|------------------------------|------------------------------------|--------------------|
| a. Członkiem Mazowieckiego Forum Oddziałów PTTK | b. Okręgiem Mazowieckim ZPFP | c. Organizacją Pożytku Publicznego | d. Stowarzyszeniem |
|---|------------------------------|------------------------------------|--------------------|

2. Zgłoszenie imprezy turystycznej do rejestru imprez OM PTTK musi zawierać: [7 pkt.]

- |  |                              |  |   |
|--|------------------------------|--|---|
| a. imiona, nazwiska oraz uprawnienia kadry imprezy | b. listę uczestników imprezy | c. daty rozpoczęcia i zakończenia oraz trasę imprezy | d. planowane koszty imprezy i wynagrodzenia kadry |
|--|------------------------------|--|---|

3. Wolontariusz: [6 pkt.]

- |                                      |                                  |                                   |  |
|--------------------------------------|----------------------------------|-----------------------------------|--|
| a. posiada podpisaną umowę z OM PTTK | b. jest objęty ubezpieczeniem OC | c. jest objęty ubezpieczeniem NNW | d. wykonuje zadania osobiście i nieodpłatnie |
|--------------------------------------|----------------------------------|-----------------------------------|--|

4. Rozliczenie imprezy turystycznej w OM PTTK musi zawierać informacje o: [7 pkt.]

- |   |                              |   |                               |
|---|------------------------------|---|-------------------------------|
| a. czas pobytu na imprezie każdego uczestnika | b. listę uczestników imprezy | c. przepływy pieniężne organizatora imprezy | d. rzeczywisty przebieg trasy |
|---|------------------------------|---|-------------------------------|

### Pytanie 41 [24 pkt.] test wielokrotnego wyboru

Zaznacz prawidłowe odpowiedzi.

1. Obywatel Polski może wjechać do Norwegii na podstawie: [6 pkt.]

- |                      |              |                            |                |
|----------------------|--------------|----------------------------|----------------|
| a. dowodu osobistego | b. paszportu | c. ważnej legitymacji PTTK | d. ważnej wizy |
|----------------------|--------------|----------------------------|----------------|

2. Do strefy Schengen należą: [6 pkt.]

- |            |         |             |               |
|------------|---------|-------------|---------------|
| a. Austria | b. Cypr | c. Islandia | d. Szwajcaria |
|------------|---------|-------------|---------------|

3. Podczas wycieczki granicę Bośni i Hercegowiny można przekroczyć na podstawie: [6 pkt.]

- |                      |  |              |                               |
|----------------------|--|--------------|-------------------------------|
| a. dowodu osobistego | b. identyfikatora wydanego przez Straż Graniczną | c. paszportu | d. umowy dwustronnej z Bośnią |
|----------------------|--|--------------|-------------------------------|

4. W strefie Schengen: [6 pkt.]

- |  |   |  |   |
|--|---|--|---|
| a. należy posiadać dokument tożsamości | b. nie ma limitów przewozu towarów akcyzowych | c. należy posiadać zezwolenie na wywóz przedmiotów zabytkowych | d. mogą być przeprowadzone kontrole mobilne |
|--|---|--|---|

### Pytanie 42 [24 pkt.] test wielokrotnego wyboru

1. Kierownik imprezy OM PTTK: [6 pkt.]

- |                               |  |                                    |  |
|-------------------------------|--|------------------------------------|--|
| a. musi być wolontariuszem OM | b. powinien posiadać uprawnienia przewodnickie | c. musi posiadać uprawnienia OT OM | d. jest objęty ubezpieczeniem OC i NNW |
|-------------------------------|--|------------------------------------|--|

2. Ubezpieczenie OC podczas imprezy OM PTTK obejmuje: [6 pkt.]

- |                            |                       |   |                          |
|----------------------------|-----------------------|---|--------------------------|
| a. każdego członka OM PTTK | b. kierownika imprezy | c. uczestnika imprezy organizowanej przez OM PTTK | d. wolontariusza OM PTTK |
|----------------------------|-----------------------|---|--------------------------|

3. Ubezpieczenie NNW podczas imprezy OM PTTK obejmuje: [6 pkt.]

- |                            |                       |                       |                          |
|----------------------------|-----------------------|-----------------------|--------------------------|
| a. każdego członka OM PTTK | b. kierownika imprezy | c. uczestnika imprezy | d. wolontariusza OM PTTK |
|----------------------------|-----------------------|-----------------------|--------------------------|

4. Impreza organizowana w ramach OM PTTK: [6 pkt.]

- |                                |                             |  |                           |
|--------------------------------|-----------------------------|--|---------------------------|
| a. musi być w rejestrze imprez | b. powinna przynosić dochód | c. uczestnicy są objęci ubezpieczeniem NNW | d. musi zostać rozliczona |
|--------------------------------|-----------------------------|--|---------------------------|

**Pytanie 43 [24 pkt.] test wielokrotnego wyboru**

1. Policja ma prawo na dworcu PKP: [6 pkt.]

- |                                      |                                     |   |  |
|--------------------------------------|-------------------------------------|---|--|
| a. wylegitymować uczestników imprezy | b. skontrolować plecaki turystyczne | c. żądać okazania uprawnień turystycznych | d. wykonywać czynności służbowe bez przedstawienia się |
|--------------------------------------|-------------------------------------|---|--|

2. Turysta w ruchu drogowym: [6 pkt.]

- |   |  |  |                                 |
|---|--|--|---------------------------------|
| a. w określonych przypadkach może korzystać z drogi dla rowerów | b. może przekraczać jezdnię w dowolnym miejscu | c. ma prawo poruszać się prawą stroną jezdni | d. może iść obok innego turysty |
|---|--|--|---------------------------------|

3. Kierować rowerem wieloosobowym oraz przewozić na rowerze inną osobę może osoba, która ukończyła: [6 pkt.]

- |           |           |           |           |
|-----------|-----------|-----------|-----------|
| a. 12 lat | b. 15 lat | c. 17 lat | d. 18 lat |
|-----------|-----------|-----------|-----------|

4. Straż Graniczna: [6 pkt.]

- |                                    |  |                                       |  |
|------------------------------------|--|---------------------------------------|--|
| a. może dokonać kontroli osobistej | b. może zawsze przejrzeć bagaż lub ładunek | c. nie ma obowiązku legitymowania się | d. zawsze kontroluje obywateli spoza strefy Schengen |
|------------------------------------|--|---------------------------------------|--|